

**UNIT PEPERIKSAAN  
KOLEJ YAYASAN SAAD, MELAKA**

**UJIAN BULAN APRIL 2012  
KEMAHIRAN HIDUP BERSEPADU  
PERDAGANGAN DAN KEUSAHAWANAN (PILIHAN 4)  
TINGKATAN 3  
Kertas 1  
1 Jam**

**79/1  
SULIT**

---

**JANGAN BUKA KERTAS SOALAN INI SEHINGGA DIBERITAHU**

**Arahan :**

1. Jawab **semua** soalan.
2. Tiap-tiap soalan mempunyai empat pilihan jawapan yang berhuruf A, B, C dan D. Bagi tiap-tiap soalan pilih satu jawapan sahaja. Tandakan semua jawapan anda pada kertas objektif yang disediakan.
3. Fikir dengan teliti ketika memilih jawapan anda. Jika anda hendak menukar jawapan, padamkan dahulu sehingga tanda yang tidak dikehendaki itu hilang dan hitamkan pilihan anda yang baru.

---

Kertas soalan ini mengandungi 18 halaman bercetak.

**Lihat halaman sebelah  
SULIT**

1. Apakah punca utama berlakunya kemalangan

- A masalah dan keperluan
- B bahan dan anggaran kos.
- C kaedah dan teknik binaan.
- D peralatan dan kemasan produk.

2. Pilih peraturan keselamatan yang betul ketika mengendalikan alatan tangan.

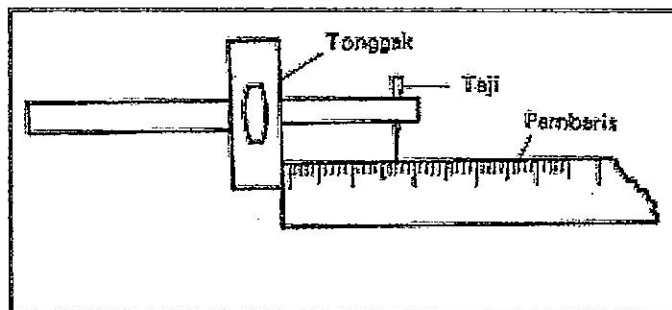
- I Jangan gunakan pahat yang terlalu tajam.
- II Bersihkan alatan yang telah digunakan dengan air yang bersih.
- III Pastikan alatan tangan berada dalam keadaan yang baik sebelum digunakan.
- IV Penggunaan peralatan elektrik perlulah mendapat tunjuk ajar dan kebenaran guru.

- A I dan II
- B II dan III
- C III dan IV
- D I, II, III dan IV

*Produk ulung yang dihasilkan mengikut saiz sebenar dan boleh berfungsi.*

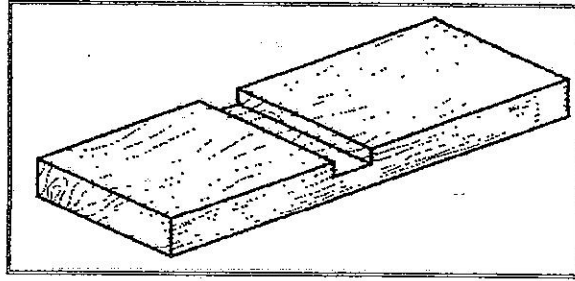
3. Pernyataan pada jadual di atas menerangkan tentang

- A model.
- B prototaip.
- C projek siap dibeli.
- D projek yang diubah suai.



4. Apakah proses yang ditunjukkan pada rajah di atas ?

- A Menyemak ukuran.
- B Mengukur panjang taji.
- C Mengukur lebar tonggak.
- D Melaraskan tolok penanda.



5. Antara berikut alatan tangan yang manakah digunakan bagi membuat tanggam pada rajah di atas ?

- I Gandin getah.
- II Tolok penanda.
- III Gergaji puting.
- IV Pahat tepi serong.

- A I dan II
- B I dan III
- C I, II dan IV
- D II, III dan IV

6. Kebaikan sel basah jika dibandingkan dengan sel dengan sel kering

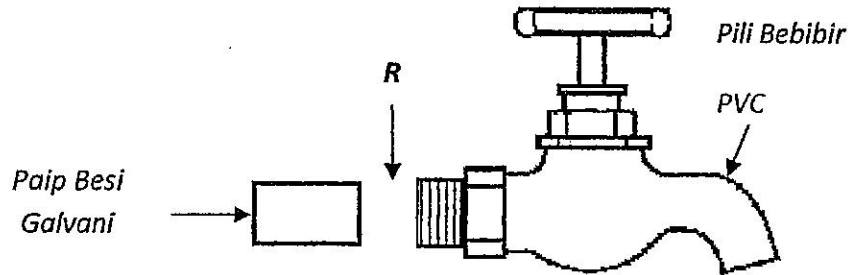
- A Membekalkan voltan yang lebih tinggi
- B Menjimatkan penggunaan tenaga elektrik
- C Menghasilkan arus terus
- D Mudah digunakan

7. Berapakah sel kering yang diperlukan untuk mendapatkan voltan sebanyak 12 volt?

- A 3
- B 6
- C 8
- D 10

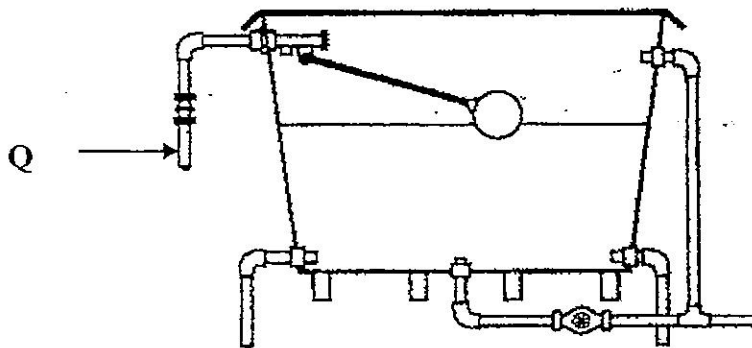
8. Alatan tangan manakah yang digunakan untuk membuang gerigis luar pada paip besi bergalvani

- A kikir rata
- B kikir bulat
- C pemotong paip beroda
- D playar cengkam seribu



9. Apakah jenis penyambung dan bahan penyambungan yang digunakan pada R dalam rajah di atas ?

	Jenis Penyambung	Bahan Penyambungan
A	Soket Sama PVC	Simen Pelarut
B	Soket Sama Besi Galvani	Pita PTFE
C	Penyuai Soket 'PT'	Simen Pelarut dan Pita PTFE
D	Penyuai Soket Injap	Simen Pelarut dan Pita PTFE



10. Kod warna bagi gred paip besi galvani yang paling sesuai digunakan pada paip yang bertanda Q pada rajah di atas ialah

- A Biru.
- B Coklat
- C Merah
- D Kelabu.

11. Antara berikut, yang manakah betul untuk mengira kos pengeluaran?

- A kos bahan + kos upah + kos overhead
- B kos bahan + kos upah + kos belian
- C kos bahan + kos overhead - kos upah
- D kos bahan + kos upah - kos overhead

12. Sebelum mengglu, pastikan permukaan yang hendak diglu \_\_\_\_\_.

- A bersih dan kering
- B dibasuh dengan sabun
- C bersih, kering dan tidak berminyak
- D bersih dan licin

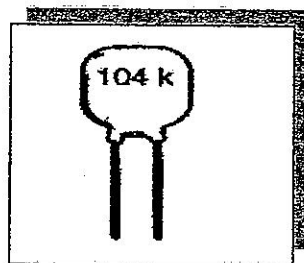
13. Antara berikut, yang manakah kelebihan aluminium

- A permukaan yang berkilat
- B kukuh dan tahan lama
- C tidak mudah tergores
- D ringan dan mudah dibentuk

14. Perintang karbon yang bernilai  $100\ \Omega$  dan mempunyai tiga jalur warna bermaksud

- I ia boleh menerima rintangan sebanyak  $20\ \Omega$ .
- II rintangannya adalah antara  $80\ \Omega$  dan  $120\ \Omega$ .
- III ia boleh menerima arus bernilai 20 ampere.
- IV had terimanya adalah 20%.

- A I dan II
- B I dan IV
- C II dan III
- D II dan IV

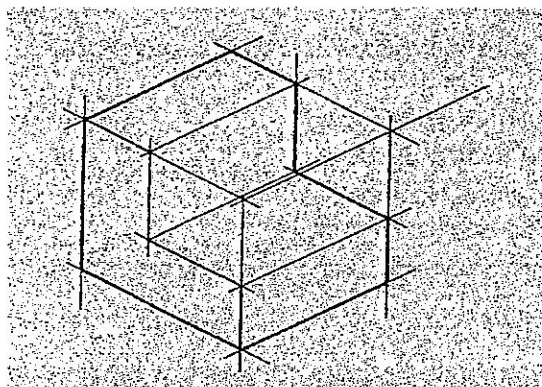


15. Simbol bagi komponen pada rajah di atas ditunjukkan pada

- A
- B
- C
- D

16. Alat ini dapat dapat membuang timah pateri bagi menanggalkan kaki komponen daripada bod litar

- A alat pemateri
- B alat penyedut pateri
- C penjalur wayar
- D pemotong sisi



17. Rajah di atas menunjukkan sebuah bongkah. Apakah gred pensel yang digunakan untuk menghitamkan garisan objek pada bongkah tersebut

- A H
- B HB
- C 2H
- D 2B

- Memindahkan ukuran pada kertas lukisan
- Menandakan jarak yang sama

18. Apakah alatan lukisan teknik yang mempunyai ciri ciri di atas

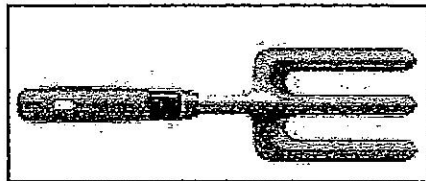
- A Sesiku set
- B Jangka lukis
- C Jangka tolok
- D Jangka sudut

19. Dalam lukisan teknik, bulatan dan bahagian lengkung dilukis dengan menggunakan

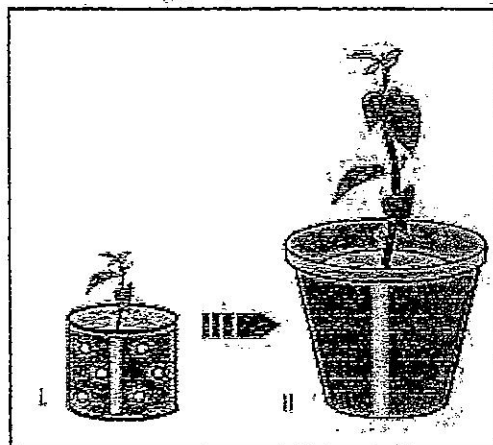
- A sesiku T
- B jangka lukis
- C jangka tolok
- D sesiku set

20. Produk reka cipta yang mesra alam bermaksud
- A produk yang penggunaannya tidak akan menjejaskan alam sekitar
  - B produk yang berteknologi canggih
  - C reka bentuk produk yang ideanya tercetus daripada elemen alam
  - D produk yang digunakan untuk menyukat tahap pencemaran alam
21. Langkah terakhir dalam mereka cipta ialah
- A perancangan pembinaan projek
  - B pendokumentasian
  - C pemilihan idea
  - D pemilihan reka bentuk
22. Antara berikut, yang manakah merupakan langkah pertama dalam proses reka cipta?
- A pemilihan idea
  - B pemilihan reka bentuk
  - C pengenalpastian masalah
  - D perancangan pembinaan projek
23. Antara berikut, proses apakah yang dapat membantu mencetuskan minda untuk berfikir secara kreatif dan inovatif dalam reka cipta
- A mengenalpasti masalah
  - B menganalisis maklumat
  - C mengumpul maklumat dan data
  - D pembacaan dan penyelidikan
24. Antara berikut, bahan manakah paling sesuai digunakan untuk mereka bentuk rak memperagakan makanan bermasak di restoran
- A PVC
  - B kayu
  - C aluminium
  - D keluli lembut

25. Aktiviti merumput adalah satu daripada langkah penjagaan tanaman. Rumput rumpai perlu dibuang supaya
- A air siraman dapat terus masuk ke dalam medium
  - B tanaman mendapat nutrien yang secukupnya.
  - C dapat membaiki saluran dan pengudaraan medium
  - D mempercepatkan pertumbuhan tunas-tunas baru




26. Alatan yang ditunjukkan di bawah digunakan untuk
- A Mengembur tanah
  - B Menggaul tanah
  - C Menggali lubang
  - D Menebuk lubang saluran




27. Rajah di atas adalah salah satu aktiviti penanaman tanaman hiasan. Apakah aktiviti tersebut?
- A Mengubah
  - B Menyemai
  - C Memasu
  - D Menanam



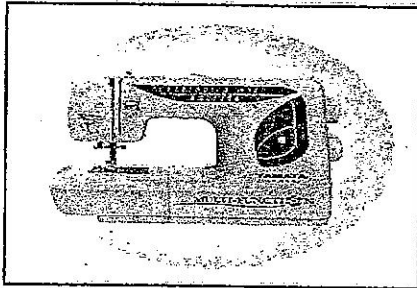
28. Jenis mesin jahit terdiri daripada




I



II



III



IV

- A I, II, III  
 B I, III dan IV  
 C II, III dan IV  
 D I, II, III dan IV

29. Berikut ialah jenis jahitan hiasan, kecuali


- A Jahitan insang pari  
 B Jahitan jelujur  
 C Jahit suji bilang  
 D Jahitan silang pangkah

30. Pinggan mangkuk yang digunakan untuk menyiapkan meja makan hendaklah

- I Kering.  
 II Bersih.  
 III Paling baru.  
 IV Diperbuat daripada kaca.

- A I dan II.  
 B II dan III.  
 C III dan IV.  
 D I dan IV.



31. Dalam rajah di bawah, En. Eizlan ada seekor ayam dan En. Adham ada 4 ekor ikan. Mereka mungkin melakukan suatu pertukaran jika mereka



- I dapat menentukan kadar pertukarannya.
- II adalah saudara mara.
- III mempunyai kemahuan serentak.
- IV mempunyai kegemaran yang sama.

- A I dan II
- B I dan III
- C II dan III
- D III dan IV

32. Berdasarkan tanda nama perniagaan pada rajah di bawah, ciri-ciri manakah yang paling tepat bagi milikan perniagaan tersebut?

	 Public Bank Berhad	 AZDE SDN. BHD.
<b>A</b>	Dimiliki oleh 2 hingga 50 orang pemegang saham	Dimiliki 2 hingga tidak terhad pemegang saham
<b>B</b>	Modal diperolehi daripada penjualan saham kepada pemegang saham	Modal diperolehi daripada penjualan saham kepada orang awam
<b>C</b>	Liabiliti Terhad	Liabiliti Terhad
<b>D</b>	Keuntungan diberi dalam bentuk dividen	Keuntungan di beri dalam bentuk dividend an bonus

<b>KEDAH-KEDAH PENDAFTARAN PERNIAGAAN 1957 (KAEDAH 3)</b>		<b>PENDAFTARAN PERNIAGAAN</b>
C. MAKLUMAT PEMILIK		
UNTUK KEGUNAAN PEJAKAT NO. PERAKAAN _____ DIBIAHKAN KOSONG	Nota: Tinggalkan pemilik hendaklah mengisi butir-butir maklumat ini dalam bahasa Bersejarah.	BOBANG A
1. NAMA PEMILIK _____ _____	2. JANTINA <input type="checkbox"/> LELAKI <input type="checkbox"/> PEREMPUAN	
3. NO. PENGENALAN DIRI <input type="checkbox"/> KAD PENGEKALAK SARA <input type="checkbox"/> PASPORT <input type="checkbox"/> POLS <input type="checkbox"/> TESTERA KAD PENGENALAN LAMA: _____		
4. WARSA <input type="checkbox"/> BENU <input type="checkbox"/> MERAN <input type="checkbox"/> LAIN-LAIN _____	5. TARIKH LAHIR _____	
6. ALAMAT NEGARA _____ _____		
6.1. BANDAR _____	6.2. POSKOD _____	6.3. NEGERI (KOD) _____
7. BANGSA <input type="checkbox"/> MELAYU <input type="checkbox"/> CINA <input type="checkbox"/> INDA <input type="checkbox"/> BUMIPUTERA SABAH <input type="checkbox"/> BUMIPUTERA SARAWAK <input type="checkbox"/> LAIN-LAIN (SILA HATIKAN) _____	8. KERAKYATAN <input type="checkbox"/> MELAYU <input type="checkbox"/> PENDUDUK TETAP (PENDUDUK NEGARA ASAL) _____	9. PEMILIKAN <input type="checkbox"/> KETUAPOUYAAN TUNGGAL <input type="checkbox"/> KONGSI UTAMA <input type="checkbox"/> KONGSI BIASA
10. TANDATANGAN PEMILIK _____		

CONTOH

33. Antara maklumat yang perlu dinyatakan di dalam Borang A seperti rajah di atas adalah seperti berikut, kecuali

- A nama perniagaan.
- B tempat perniagaan.
- C jenis milikan perniagaan.
- D nama ahli kongsi.


34. Antara berikut, yang manakah diberikan kuasa untuk meluluskan lesen perniagaan?



I



II



III



IV

- A I, II dan III  
 B I, II dan IV  
 C I, III dan IV  
 D II, III dan IV

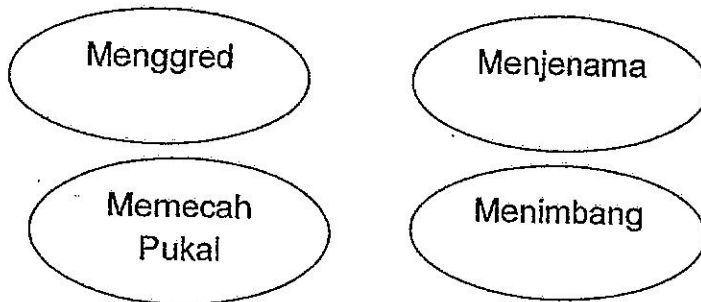
35. Faktor-faktor yang berikut boleh menentukan harga sesuatu barangan yang berada di pasaran.

- I Kos pengeluaran  
 II Peratus keuntungan yang hendak dibuat  
 III Harga daripada pesaing  
 IV Umur pembelinya

- A I, II dan III  
 B II, III dan IV  
 C I, III dan IV  
 D I, II, III dan IV

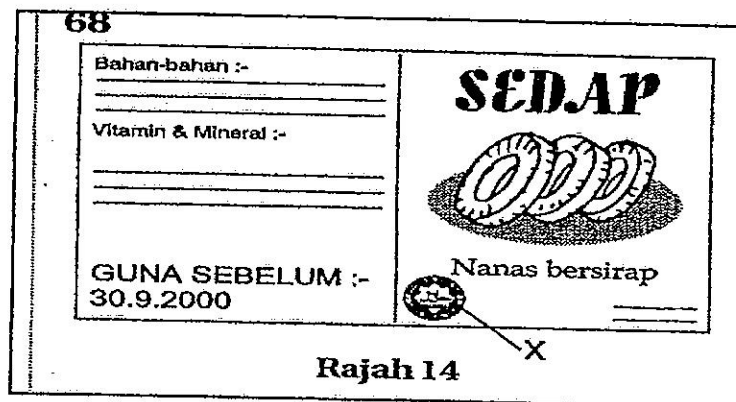
36. Puan Izati mempunyai sebuah kedai runcit. Beliau membeli barangan daripada pemborong dan menjualkannya kepada penghuni-penghuni di sekitar amannya. Ini bermaksud beliau seorang

- A peniaga
- B usahawan
- C pengguna
- D pemborong



37. Di manakah aktiviti-aktiviti di atas dilakukan?

- A Kilang
- B Gudang
- C Kedai
- D Warung



38. Fungsi bahagian yang bertanda X dalam rajah di atas ialah

- A simbol untuk sesuatu barang atau pihak pengeluar.
- B sistem simbol yang digunakan untuk menyemak stok secara berkomputer.
- C logo halal yang dikeluarkan oleh bahagian Hal Ehwal Agama Islam
- D jaminan kerajaan terhadap sesuatu barang yang dikeluarkan

39. Pilih ciri-ciri individu yang telah mendapat pendidikan pengguna.

- I Tahu hak-hak pengguna.
- II Berfikiran kritis dan kreatif.
- III Bijak mencari maklumat.
- IV Sentiasa bertanggungjawab.

- A I dan II
- B I, II, dan III
- C I, II, dan IV
- D I, II, III, dan IV

40. Pilih pernyataan yang benar.

- I Dalam simpan kira, peniaga dan perniagaan adalah dua entiti yang berasingan.
- II Perniagaan meminjam wang dari peniaga.
- III Akaun modal sebenarnya adalah akaun peniaga.
- IV Akaun modal hanya digunakan untuk mencatat urus niaga bukan tunai.

- A I, II, dan III
- B I, II, dan IV
- C I, III, dan IV
- D II, III, dan IV

41. Yang manakah benar tentang menyimpan rekod.

- I Rekod perniagaan disimpan untuk mengetahui perkembangan perniagaan.
- II Akaun-akaun lejar biasanya di dalam bentuk Y dan bentuk T.
- III Mengetahui jumlah aset dan liabiliti dalam perniagaan.
- IV Setiap urus niaga direkodkan oleh peniaga dalam bentuk akaun.

- A I dan II
- B I, II, dan III
- C I, III, dan IV
- D I, II, III, dan IV

42. Apakahimbangan duga dan bilakah Imbangan Duga itu disediakan?

- A Satu ringkasan urusniaga dan pada masa perniagaan dijalankan.
- B Satu penyata akaun perniagaan dan pada masa perniagaan dibubarkan.
- C Satu senarai baki akaun dan pada akhir jangka masa perniagaan.
- D Satu bahagian dalam catatan bergu dan selepas akaun penamat.

43. Tujuan menyediakan Imbangan Duga ialah
- I menguji ketepatan catatan bergu.
  - II menguji ketepatan pengiraan.
  - III menyediakan akaun penamat dan kunci kira-kira.
- A I sahaja
  - B I dan II
  - C II dan III
  - D I, II dan III
44. Antara berikut prinsip yang manakah digunakan untuk membuat Imbangan Duga?
- I Debitkan semua baki aset.
  - II Kreditkan semua liabiliti.
  - III Kreditkan semua baki debit.
  - IV Debitkan semua baki debit.
- A I dan IV
  - B I, II dan III
  - C I, II dan IV
  - D I, III dan IV
45. Manakah antara akaun berikut akan dipindahkan ke Akaun Perdagangan?
- I Komisen
  - II Alat pejabat
  - III Jualan
  - IV Belian
- A I sahaja
  - B I dan II
  - C II dan III
  - D III dan IV
46. Akaun Penamat terdiri daripada dua jenis akaun iaitu
- A Akaun Perdagangan dan Akaun Untung Rugi bagi tahun berakhir pada 31 Mac 2012.
  - B Akaun Perdagangan dan Akaun Untung Rugi pada 31 Mac 2012.
  - C Imbangan duga dan Kunci Kira-kira pada 31 Mac 2012
  - D Imbangan Duga dan Akaun Perdagangan bagi tahun berakhir pada 31 Mac 2012.

47. Antara Akaun Untung Rugi berikut, yang manakah telah disediakan dengan betul?

A

Akaun Untung Rugi bagi tahun berakhir pada 31 Mac 2012	
Belanja Am Sewa Dibayar Insurans Untung Bersih	Untung Kasar Komisen Diterima

B

Akaun Untung Rugi bagi tahun berakhir pada 31 Mac 2012	
Rugi Kasar Sewa Diterima Insurans Untung Bersih	Untung Kasar Sewa Dibayar

C

Akaun Untung Rugi bagi tahun berakhir pada 31 Mac 2012	
Belanja am Komisen Diterima Insurans Untung Bersih	Untung Kasar Sewa Dibayar

D

Akaun Untung Rugi bagi tahun berakhir pada 31 Mac 2012	
Rugi Kasar Sewa Dibayar Insurans	Untung Kasar Rugi Bersih



Berdasarkan Imbangan Duga Perniagaan RZ di bawah, jawab soalan 48 hingga 50 soalan.

**Imbangan Duga pada 31 Mac 2012**

BUTIR-BUTIR	DEBIT (RM)	KREDIT (RM)
Stok( 1.4.2011)	2 000	
Belian dan Jualan	25 000	35 000
Sewa	2 100	
Tunai	700	
Bank	11 000	
Duti atas belian	160	
Angkutan masuk	300	
Belanja am	400	
Angkutan keluar	600	
Ambilan	800	
Gaji	1 000	
Penghutang dan Pemiutang	2 600	3 000
Komisen diterima		2 000
Faedah diterima		1 000
Modal		43 660
Premis	31 000	
Kenderaan	7 000	
	<b>RM 84 660</b>	<b>RM 84 660</b>

Stok pada 31 Mac 2012 RM 2 020

48. Berapakah jumlah kos barang yang dijual untuk Perniagaan RZ ?

- A RM 23 460
- B RM 25 460
- C RM 27 460
- D RM 27 920

49. Berapakah jumlah untung kasar Perniagaan RZ ?

- A RM 15 580
- B RM 13 560
- C RM 11 540
- D RM 9 540

50. Untung bersih bagi Perniagaan RZ pada 31 Mac 2012 ialah

- A RM 51 560
- B RM 47 460
- C RM 35 000
- D RM 12 460

**KERTAS SOALAN TAMAT**

***Disediakan dan disemak oleh :***

***Pn. Rozilayati bt Zainudin***

  
: .....

***En. Mohd Fadzli bin Talib***

  
: .....